



ΚΟΛΛΕΓΙΟ ΑΘΗΝΩΝ

Ελληνο-Αμερικανικό Εκπαιδευτικό Ίδρυμα

Νηπιαγωγείο • Δημοτικό • Γυμνάσιο • Λύκειο

ΚΟΛΛΕΓΙΟ ΑΘΗΝΩΝ • ΚΟΛΛΕΓΙΟ ΨΥΧΙΚΟΥ • ΝΗΠΙΑΓΩΓΕΙΟ Ι.Μ. ΚΑΡΡΑΣ

1925

Δημοτικό
Κολλεγίου Ψυχικού

Τάξη 1η

Μαθηματικά

Προμαθηματικές έννοιες



Όνομα: _____



Χρωματίζω ό,τι είναι


πάνω από την ομπρέλα




κάτω από την ομπρέλα



μέσα στο καφάσι



έξω από το καφάσι



μπροστά από το θρανίο



πίσω από το θρανίο



Όνομα _____



Ημερομηνία: _____

Χρωματίζω ό,τι είναι


δεξιά από το παιδί




αριστερά από το παιδί




κοντά στο λουλούδι




μακριά από το λουλούδι



ψηλά στη σκάλα




χαμηλά στη σκάλα



Όνομα _____



Ημερομηνία: _____




Όνομα _____




Ημερομηνία: _____

Χρωματίζω:


5 κουνέλια



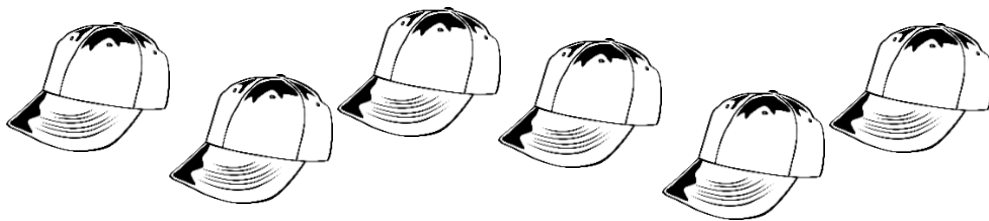
2 ποτήρια



3 αρκουδάκια



4 καπέλα

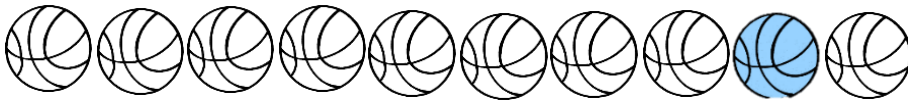



Όνομα _____



Ημερομηνία: _____

Χρωματίζω το προηγούμενο:

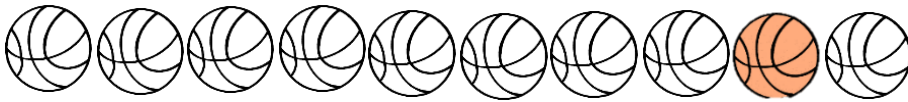



Όνομα _____



Ημερομηνία: _____

Χρωματίζω το επόμενο:



Όνομα _____



Ημερομηνία: _____

Χρωματίζω τον προηγούμενο αριθμό:

0	1	2	3	4	5	6	7	8	9	10
---	---	---	---	---	---	---	---	---	---	----

0	1	2	3	4	5	6	7	8	9	10
---	---	---	---	---	---	---	---	---	---	----

0	1	2	3	4	5	6	7	8	9	10
---	---	---	---	---	---	---	---	---	---	----

0	1	2	3	4	5	6	7	8	9	10
---	---	---	---	---	---	---	---	---	---	----

0	1	2	3	4	5	6	7	8	9	10
---	---	---	---	---	---	---	---	---	---	----

Όνομα _____



Ημερομηνία: _____

Χρωματίζω τον επόμενο αριθμό:

0	1	2	3	4	5	6	7	8	9	10
---	---	---	---	---	---	---	---	---	---	----

0	1	2	3	4	5	6	7	8	9	10
---	---	---	---	---	---	---	---	---	---	----

0	1	2	3	4	5	6	7	8	9	10
---	---	---	---	---	---	---	---	---	---	----

0	1	2	3	4	5	6	7	8	9	10
---	---	---	---	---	---	---	---	---	---	----



0	1	2	3	4	5	6	7	8	9	10
---	---	---	---	---	---	---	---	---	---	----

Όνομα _____





Ημερομηνία: _____

Μετρώ, συγκρίνω και βάζω το κατάλληλο σύμβολο:




□ —————



————— □ —————



————— □ —————



————— □ —————

Όνομα _____




Ημερομηνία: _____


Μετρώ, συγκρίνω και βάζω το κατάλληλο σύμβολο:



— —



— —



— —



— —




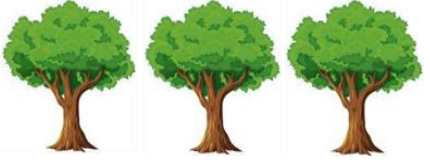





Όνομα _____



Ημερομηνία: _____

Συμπληρώνω ή διαγράφω για να γίνουν **τόσα όσα** λέει ο αριθμός:







2	
5	
6	
4	
6	
3	
1	

Όνομα _____



Ημερομηνία: _____

Κύκλωσε τον αριθμό που δείχνει πόσα είναι:





	<table border="1" style="margin: auto;"> <tr> <td style="padding: 5px;">1</td> <td style="padding: 5px;">2</td> <td style="padding: 5px;">3</td> </tr> <tr> <td style="padding: 5px;">4</td> <td style="padding: 5px;">5</td> <td></td> </tr> </table>	1	2	3	4	5	
1	2	3					
4	5						
<table border="1" style="margin: auto;"> <tr> <td style="padding: 5px;">1</td> <td style="padding: 5px;">2</td> <td style="padding: 5px;">3</td> </tr> <tr> <td style="padding: 5px;">4</td> <td style="padding: 5px;">5</td> <td></td> </tr> </table>	1	2	3	4	5		
1	2	3					
4	5						
	<table border="1" style="margin: auto;"> <tr> <td style="padding: 5px;">1</td> <td style="padding: 5px;">2</td> <td style="padding: 5px;">3</td> </tr> <tr> <td style="padding: 5px;">4</td> <td style="padding: 5px;">5</td> <td></td> </tr> </table>	1	2	3	4	5	
1	2	3					
4	5						
<table border="1" style="margin: auto;"> <tr> <td style="padding: 5px;">1</td> <td style="padding: 5px;">2</td> <td style="padding: 5px;">3</td> </tr> <tr> <td style="padding: 5px;">4</td> <td style="padding: 5px;">5</td> <td></td> </tr> </table>	1	2	3	4	5		
1	2	3					
4	5						
	<table border="1" style="margin: auto;"> <tr> <td style="padding: 5px;">1</td> <td style="padding: 5px;">2</td> <td style="padding: 5px;">3</td> </tr> <tr> <td style="padding: 5px;">4</td> <td style="padding: 5px;">5</td> <td></td> </tr> </table>	1	2	3	4	5	
1	2	3					
4	5						
<table border="1" style="margin: auto;"> <tr> <td style="padding: 5px;">1</td> <td style="padding: 5px;">2</td> <td style="padding: 5px;">3</td> </tr> <tr> <td style="padding: 5px;">4</td> <td style="padding: 5px;">5</td> <td></td> </tr> </table>	1	2	3	4	5		
1	2	3					
4	5						

Όνομα _____



Ημερομηνία: _____

Κόβω τους αριθμούς. Τους κολλάω στα αντίστοιχα κουτιά.

	<input type="text"/>
	<input type="text"/>
	<input type="text"/>
	<input type="text"/>



1	2	3	4	5
---	---	---	---	---

Όνομα _____




Ημερομηνία: _____

Ζωγραφίζω τόσες βούλες στις πασχαλίτσες
όσες λέει ο αριθμός:

4




2



5




1



3



4




Όνομα _____




Ημερομηνία: _____


Η Άννα είναι 3 χρονών. Ο Γιάννης είναι 4 χρονών
και ο Νίκος 5 χρονών. Κόβω τα κεράκια και τα
κολλάω στις τούρτες των γενεθλίων




Η Άννα είναι 3 χρονών.



Ο Γιάννης είναι 4 χρονών.




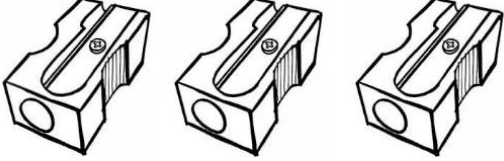


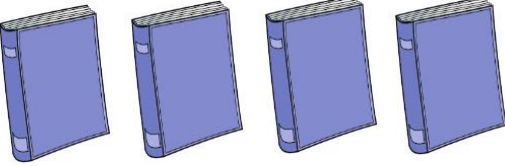

Ο Νίκος είναι 5 χρονών.



Όνομα _____



Ζωγραφίζω στη δεξιά στήλη τόσα όσα είναι στην αριστερή:







	
	
	
	
	

Όνομα _____



Ημερομηνία: _____

Ζωγραφίζω ένα περισσότερο στη δεξιά στήλη:







	
	
	
	
	

Όνομα _____



Ημερομηνία: _____

Ζωγραφίζω ένα λιγότερο στην αριστερή στήλη:

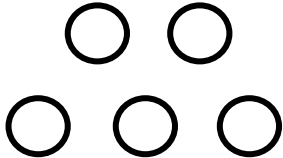






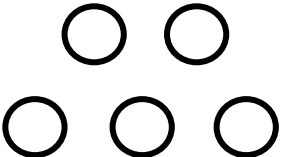




	
	
	
	
	

Όνομα _____



Ημερομηνία: _____

Μετρώ, συγκρίνω και βάζω το κατάλληλο
σύμβολο: > < =













	
	
	
	
	
	
	
	

Όνομα _____



Ημερομηνία: _____

Μετρώ, συγκρίνω και βάζω το κατάλληλο σύμβολο: > < =


	
	
	
	
	
	
	
	

Όνομα _____



Ημερομηνία: _____

Βάζω στο κουτάκι το κατάλληλο σύμβολο ισότητας ή ανισότητας: $>$ $<$ $=$

2 <input type="text"/> 4		1 <input type="text"/> 2
3 <input type="text"/> 5		2 <input type="text"/> 5
4 <input type="text"/> 5		2 <input type="text"/> 1
1 <input type="text"/> 4		3 <input type="text"/> 3
2 <input type="text"/> 2		5 <input type="text"/> 2
3 <input type="text"/> 1		4 <input type="text"/> 2
5 <input type="text"/> 5		4 <input type="text"/> 4

Όνομα _____



Ημερομηνία: _____

Γράφω τον προηγούμενο αριθμό:

1	2
	5
	3
	4

Γράφω τον επόμενο αριθμό:

1	2
3	
0	
2	


Όνομα _____



Ημερομηνία: _____

Γράφω τον προηγούμενο και τον επόμενο αριθμό:

1	2	3
	4	
	3	













Όνομα _____



Ημερομηνία: _____

Βρίσκω πόσο κάνουν:

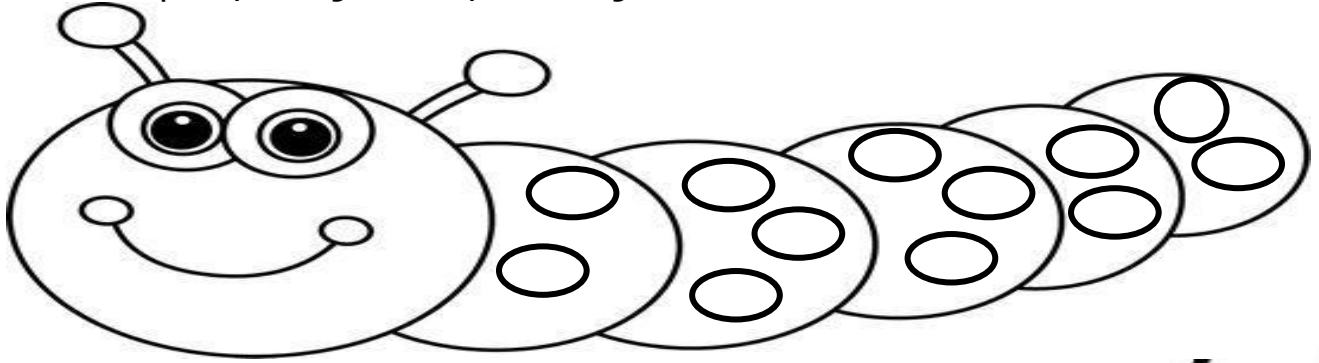
 <p>$2+1=$</p>	 <p>$3+2=$</p>
 <p>$2+2=$</p>	 <p>$1+2=$</p>
 <p>$1+1=$</p>	 <p>$1+4=$</p>
 <p>$4+1=$</p>	 <p>$1+3=$</p>
 <p>$3+1=$</p>	 <p>$2+2=$</p>

Όνομα _____



Ημερομηνία: _____


Χρωματίζω 10 βούλες:



Χρωματίζω 10 πόδια:



Χρωματίζω 10 μάτια:




Όνομα _____

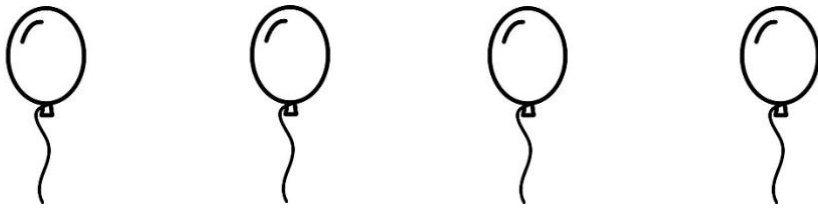


Ημερομηνία: _____


Βρίσκω πόσα μένουν:



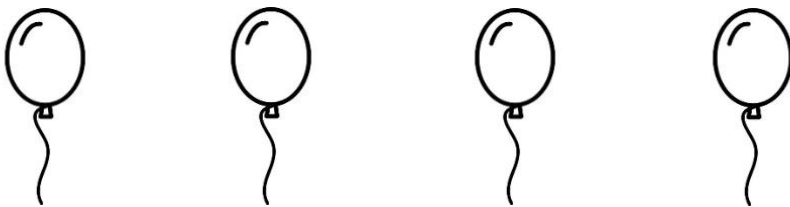
$$3 - 1 = \dots\dots$$



$$4 - 2 = \dots\dots$$



$$5 - 1 = \dots\dots$$




$$4 - 3 = \dots\dots$$

Όνομα _____

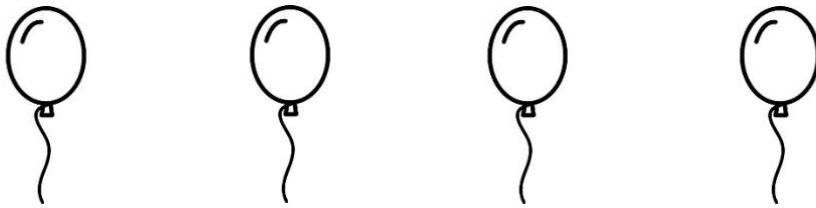


Ημερομηνία: _____


Βρίσκω πόσα μένουν:



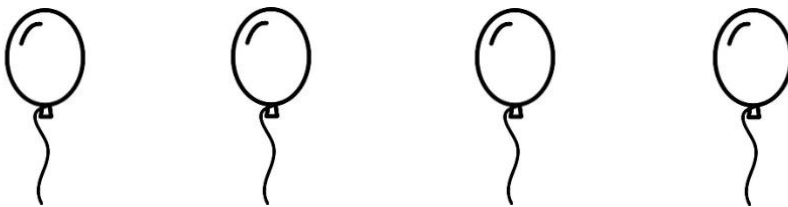
$$3 - 2 = \dots\dots$$



$$4 - 1 = \dots\dots$$



$$5 - 2 = \dots\dots$$




$$4 - 1 = \dots\dots$$

Όνομα _____

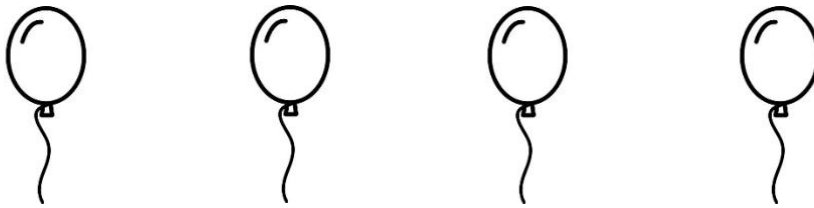


Ημερομηνία: _____


Βρίσκω πόσα μένουν:



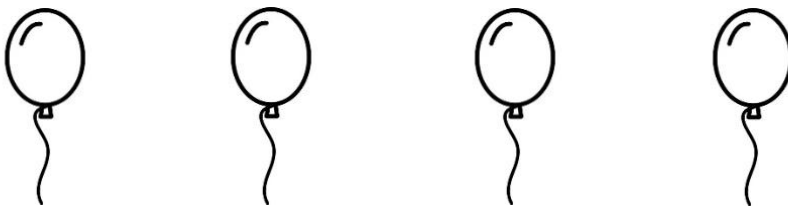
$$3 - 1 = \dots\dots$$



$$4 - 3 = \dots\dots$$



$$5 - 4 = \dots\dots$$



$$4 - 2 = \dots\dots$$

Όνομα _____







ΚΟΛΛΕΓΙΟ ΑΘΗΝΩΝ

Ελληνο-Αμερικανικό Εκπαιδευτικό Ίδρυμα

Νηπιαγωγείο • Δημοτικό • Γυμνάσιο • Λύκειο

ΚΟΛΛΕΓΙΟ ΑΘΗΝΩΝ • ΚΟΛΛΕΓΙΟ ΨΥΧΙΚΟΥ • ΝΗΠΙΑΓΩΓΕΙΟ Ι.Μ. ΚΑΡΡΑΣ

1925